





BÁNH  
MÌ  
TRÍ  
NHỚ

Ngày mai, mình có một bài kiểm tra rất quan trọng. Các bạn hãy giúp mình trả lời các câu hỏi trong bánh mì trí nhớ để mình có thể nhớ lại các kiến thức đã học nha!





Số liền trước của số 4 870  
là số nào?

4 869



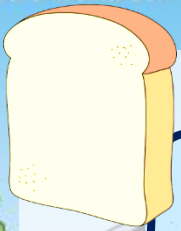


$$6\ 934 = 6\ 000 + 900 + \dots?.. + 4$$



30





Viết số: 9 nghìn, 8 trăm, 9  
chục và 9 đơn vị



9 899

